

Adım Soyadım:

Sınıfım:

GEOMETRİK ÖRÜNTÜLER




Nesne veya şekillerin belirli bir düzene göre sıralanmasına **örüntü** denir.



Aşağıdaki örüntülerin kuralını örnekteki gibi yazınız.



Kural: Bir kare, bir üçgen.



Kural:



Kural:



Kural:









Kural:



Kural:








Aşağıdaki örüntüleri devam ettiriniz.









Aşağıdaki şekillerle örüntüler oluşturunuz.

  	
--	--

  	
--	--

  	
--	--

  	
--	--

  	
--	--



Aşağıda kuralı verilen örüntüleri oluşturunuz.

Kural: 1 kare, 1 üçgen

Kural: 2 üçgen, 1 dikdörtgen

Kural: 1 çember, 2 üçgen, 1 kare

Kural: 2 kalp, 1 dikdörtgen, 1 çember

Kural: 1 ok işareti, 2 artı işareti, 1 eksi işareti

Kural: 2 top, 1 kalem