

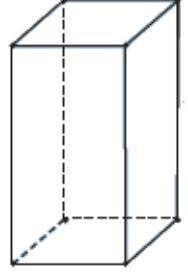
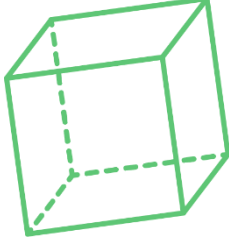
Adım Soyadım:

Sınıfım:

Numaram:

GEOMETRİK CİSİMLER

1. Aşağıda verilen geometrik cisimlerin benzer ve farklı yönlerini yazınız.



Benzer Yönleri

.....

.....

.....

.....

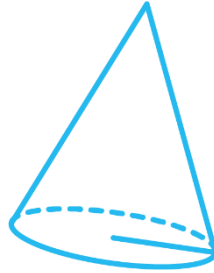
Farklı Yönleri

.....

.....

.....

.....



Benzer Yönleri

.....

.....

.....

.....

Farklı Yönleri

.....

.....

.....

.....