

Maddeyi Niteleyen Özellikler Testi - 1

1. Yandaki bulaşık süngeri için için aşağıdakilerden hangisi söylenebilir?



- A. Sert, renksiz
B. Esnek, renkli
C. Sert, renkli

2. Aşağıdakilerden hangisi pürüzlü bir maddedir?

- A. Bardak
B. Cam
C. Zımpara kağıdı

3. "Cam; sert, kırılğan ve yapıya sahiptir."

Yukarıdaki cümlede boş bırakılan yere aşağıdakilerden hangisi gelmelidir?

- A. renkli
B. esnek
C. pürüzsüz

5. Aşağıdaki maddeleri pürüzlü ve pürüzsüz diye ayırırsak hangisi dışarıda kalır?

- A. Ekmek
B. Toprak
C. Buz

6. ❖ Kırılğandır
❖ Serttir
❖ Pürüzsüzdür

Yukarıda özellikleri verilen madde hangisidir?

- A. Sünger
B. Ekmek
C. Televizyon ekranı

7.

Ayna	Toprak	Mermer
Burun	Odun	Cam

Yukarıdaki maddelerden kaç tanesi pürüzsüzdür?

- A. 4
B. 5
C. 6

8. ❖ Paket lastiği
❖ Sünger
❖ Plastik top

Yukarıdaki maddelerin ortak özelliği nedir?

- A. Kırılğan maddelerdir.
B. Esnek maddelerdir.
C. Renksiz maddelerdir.

9. "Burun ile maddelerin algılarız."

Yukarıdaki noktalı yere ne gelmelidir?

- A. tatlarını
B. duymalarını
C. kokularını

10. Aşağıdaki maddelerden hangisi pürüzlüdür?



11. Aşağıdaki maddelerden hangisi dil organımızla algılanır?

A. Elma B. Cetvel
C. Gül

12.

	Cam pürüzlü bir yapıya sahiptir.
	Lastik esnek bir yapıya sahiptir.
	Patates kırılkan bir yapıya sahiptir.

Yukarıdaki ifadelerden doğru olanlara "D" yanlış olanlara "Y" yazdığımızda hangisi doğru olur?

A.	<table><tr><td>D</td></tr><tr><td>D</td></tr><tr><td>D</td></tr></table>	D	D	D	B.	<table><tr><td>D</td></tr><tr><td>Y</td></tr><tr><td>D</td></tr></table>	D	Y	D	C.	<table><tr><td>Y</td></tr><tr><td>D</td></tr><tr><td>Y</td></tr></table>	Y	D	Y
D														
D														
D														
D														
Y														
D														
Y														
D														
Y														

13. Aşağıdaki eşleştirmelerden hangisi doğrudur?



- A. Futbol topu → Kırılkan ve esnek bir yapıya sahiptir.
B. Oyun hamuru → Esnek ve renkli bir yapıya sahiptir.
C. Cam şişe → Pürüzlü ve renksiz bir yapıya sahiptir.

14. Maddeleri 5 duyu organımızla algılayabiliriz.



Yukarıdaki özelliğe göre aşağıdaki maddelerden hangisini görme duyumuzla algılayabiliriz?

A. Rengini B. Tadını
C. Kokusunu

15. Sınıfımızdaki akıllı tahtanın ekranı

 , kalemlikler ise  bir yapıya sahiptir.

Yukarıdaki şekiller yerine aşağıdakilerden hangileri gelmelidir?

 
A. Kırılkan Pürüzsüz
B. Esnek Sert
C. Kırılkan Pürüzlü

16. Tuzlu suyu şekerli sudan ayırt etmek için hangi organımızı kullanmamız gerekir?

A. Göz B. Dil C. Kulak

17.



Yukarıdaki maddelerden kaç tanesi pürüzlü maddelere örnektir?

A. 3 B. 4 C. 5