



KONUM

Aşağıda yer alan yön pusulasının üzerine ana ve ara yönleri yazınız.

Ana Yönler:



Ara Yönler:



Aşağıda verilen görsellerdeki yön bulma yöntemlerini ve hangi yönü gösterdiklerini yazınız.



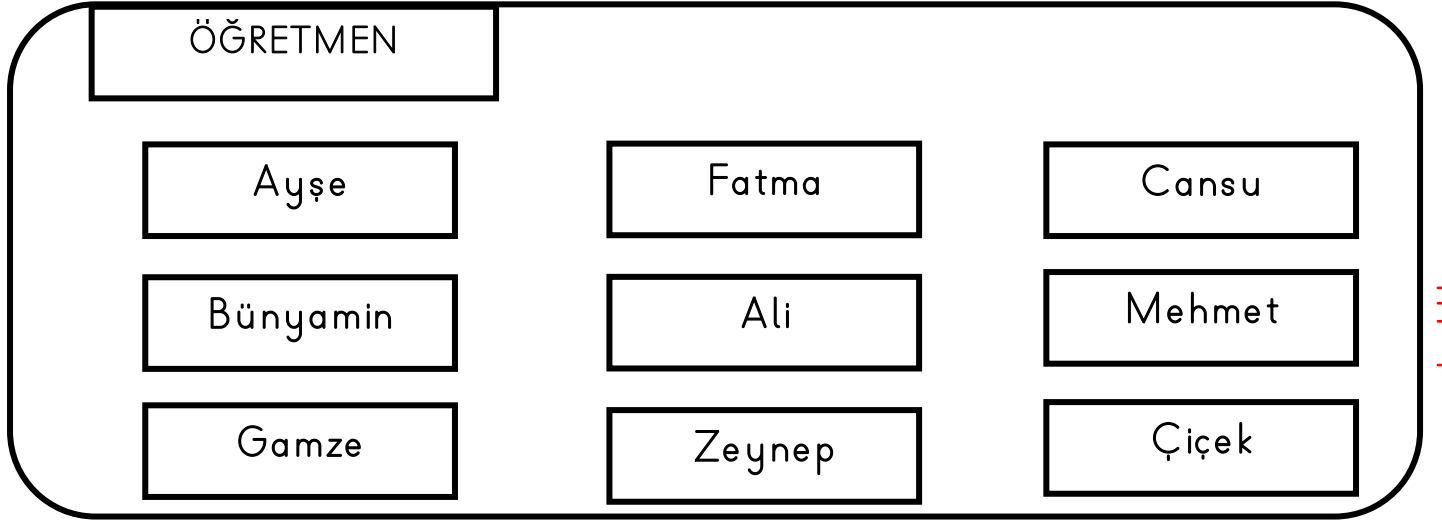


Aşağıdaki ifadelerden doğru olanların başına "D", yanlış olanların başına "Y" yazınız.

- () Gitmek istediğimiz bir yere gitmek için yönlerden yararlanabiliriz.
- () Yön bulma yöntemlerinin bir faydası yoktur.
- () Ağaçların ve yosunların tarafı güneyi gösterir.
- () Navigasyon cihazı yön bulmamıza yardımcı olur.
- () İnsanlar sadece pusula yardımıyla yön bulabilirler.



Aşağıdaki şekle göre soruları cevaplayınız.



etkinlikhane.com

- Ali' nin doğusunda kim yer almaktadır?
- Ali' nin kuzeydoğusunda kim yer almaktadır?
- Alinin güneyinde kim yer almaktadır?
- Ali' nin güneybatısında kim yer almaktadır?
- Ali' nin batısında kim yer almaktadır?
- Ali' nin kuzeybatısında kim yer almaktadır?
- Ali' nin güneydoğusunda kim yer almaktadır?