

1.  
Deneme

# Deneme Sınavı


yeni nesil sorularla

Türkçe  
Matematik  
Hayat Bilgisi



1  
SINIF

Bu deneme sınavında Türkçe 10, matematik 10 ve hayat bilgisi 10 olmak üzere toplam 30 soru vardır.



banu\_ogretmen\_

# 1 .SINIF TÜRKÇE TESTİ

## TOHUMLAR FİDANA

Tohumlar fidana  
Fidanlar ağaca  
Ağaçlar ormana  
Dönmeli yurdumda

Yuvadır kuşlara  
Örtüdür toprağa  
Can verir doğaya  
Ormanlar yurdumda

Bir tek dal kırmadan  
Ormansız kalmadan  
Her insan bir fidan  
Dikmeli yurdumda

1 ) Şiire göre tohumlar önce neye dönüşür?

A) ağaca                      B) fidana                      C) ormana

2) Şiire göre kuşlara yuva olan nedir ?

A) orman                      B) bahçe                      C) çiçek

3) Şiire göre her insan ne yapmalı ?

A) ödev yapmalı              B) fidan dikmeli              C) ders çalışmak

4) Aşağıdaki satır sonuna sığmayan sözcüklerden hangisi hecelerine doğru ayrılmıştır ?

A) gel-                      B) or-                      C) fid-  
eekti                      manda                      anlık

5) Ödevlerini yaptın mı ( )

Yukarıdaki cümlesinin sonuna hangi noktalama işareti gelmelidir ?

- A) soru işareti      B) virgül      C) nokta

6) Hangi sözcük hecelerine yanlış ayrılmıştır ?

- A) kös-te-bek      B) ha-ri-ta      C) ok-yan-us

7) Uyumadan önce süt içerim'

Yukarıdaki cümle kaç kelimedenden oluşmaktadır ?

- A) üç      B) dört      C) on

8) 'Sabah erken kalkarım'

Yukarıdaki cümle kaç harften oluşmaktadır ?

- A) üç      B) yedi      C) on sekiz

9) Aşağıdaki kelimelerden hangisinin hece sayısı fazladır ?

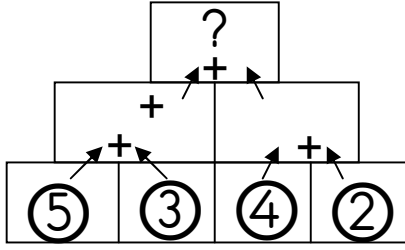
- A) uğurböceği      B) kalemlikler      C) pencere

10) Aşağıdaki cümlelerin hangisinde yanlışlık yapılmıştır ?

- A) Sen de bizimle gel.  
B) Aysun ve mert top oynuyor.  
C) Atatürk Selanik'te doğdu.

## 1 .SINIF MATEMATİK TESTİ

1)



Yanda verilen işlemde soru işareti yerine hangi sayı gelmelidir ?

A) 1 3

B) 1 4

C) 1 5

2) Sepette 1 2 elma var. 3 tanesini yedim. Sepette kaç elma kaldı ?

A) 7

B) 9

C) 1 5

3) 'atmış beş ' sayısının yazılışı hangisidir ?

A) 65

B) 45

C) 35

4) '83' sayısının okunuşu aşağıdakilerden hangisidir ?

A) yetmiş üç

B) seksen üç

C) atmış üç

5) Ayşegül 1 3 yaşındadır. Abisi, Ayşegül' den 8 yaş büyük olduğuna göre Abisi kaç yaşındadır ?

A) 7

B) 23

C) 25

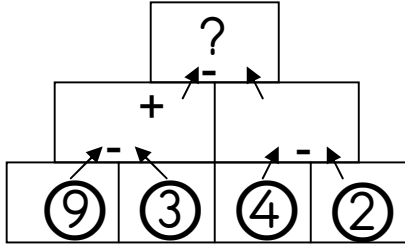
6) Bir çiftlikte 1 4 ördek , 8 tavuk ve 5 kaz vardır. Bu çiftlikte kaç hayvan vardır ?

A) 23

B) 26

C) 27

7)



Yanda verilen işlemde soru işareti yerine hangi sayı gelmelidir ?

A) 3

B) 4

C) 5

8) Gölde 26 ördek var. 8 ördek karaya çıktı. Gölde kaç ördek kaldı ?

A) 15

B) 18

C) 34

9) 1 onluk 8 birlikten oluşan sayıya 9 sayısını eklersem hangi sayıyı bulurum ?

A) 9

B) 18

C) 27

10) Sınıfımızda 16 kız öğrenci vardır. Kızların sayısının 4 eksiği kadar da erkek öğrenci olduğuna göre sınıfımızda toplam kaç öğrenci vardır ?

A) 12

B) 28

C) 29

@banu\_ogretmen\_

## 1 .SINIF HAYAT BİLGİSİ TESTİ

1 ) Oyun oynarken hangisini yapmak yanlış bir davranıştır ?

- A) Kurallara uymak
- B) Oyunu bozmak
- C) Sıramızı beklemek

2) Hangi davranışı iyi bir arkadaşımızdan beklemeyiz ?

- A) Güzel sözler söylemek
- B) Anlayışlı olmak
- C) Yalan söylemek

3) Hangisi okulumuzun idari bölümlerinden değildir ?

- A) Müdür odası
- B) Kantin
- C) Müdür yardımcısı odası

4) Hangisi sınıf içi kurallarımızdan değildir ?

- A) Çöpleri yere atmak
- B) Parmak kaldırarak söz hakkı istemek
- C) Derse zamanında girmek

5) Hangisi nezaket ifadelerinden değildir ?

- A) Teşekkür ederim
- B) Özür dilerim
- C) Önüne baksana

@banu\_ogretmen\_

6) Ders araç ve gereçlerimiz hakkında aşağıda verilen bilgilerden hangisi doğrudur ?

- A) Ders için gerekli araç gereçleri çantamızda bulundurmak
- B) Kalem ucunu gereksiz yere açmak
- C) Silgi tozlarını yere atmak

7) Aşağıdaki duyguların hangisi aile içinde bulunmaz ?

- A) Sevgi
- B) Saygı
- A) Nefret

8) Hangisi kişisel bakımımız ile ilgili değildir ?

- A) Dişlerimizi fırçalamak
- B) Ödev yapmak
- C) Tırnaklarımızı kesmek

9) Hangisi sağlığımız için dikkat etmemiz gereken kurallardan değildir?

- A) Ders çalışmak
- B) Dengeli ve düzenli beslenmek
- C) Açıkta bulunan yiyecek ve içecekleri yememek

10) Hangisi görgü kurallarına uygun değildir ?

- A) Ağızımızda lokma varken konuşmamak
- B) Ayakta yemek yemek
- C) Peçete kullanmak