

2. SINIF 1. DÖNEM MATEMATİK DEĞERLENDİRME SORULARI - 3

1. Aşağıda verilen toplama işlemlerinden sonucu **yanlış** olan hangisidir?

A) $\begin{array}{r} 48 \\ + 39 \\ \hline 87 \end{array}$ B) $\begin{array}{r} 35 \\ + 57 \\ \hline 92 \end{array}$ C) $\begin{array}{r} 59 \\ + 31 \\ \hline 80 \end{array}$

63 48 19 50 72 44

2. Hakan 45'ten büyük sayıları boyuyor, hangi iki sayıyı boyamaz?

A) 19 - 44 B) 48 - 71 C) 19 - 50

3. Yağız Efe'nin iki düzineden dört eksik sayıda boya kalemi vardır. Yağız Efe'nin boya kalemlerinin sayısı kaçtır?

A) 16 B) 20 C) 24



4. 5 onluk 8 birlikten oluşan sayının 24 eksiği kaçtır?

A) 14 B) 24 C) 34

5. Bir okul gezisine 48 kız öğrenci, 39 erkek öğrenci ve 4 öğretmen katılmıştır. Geziye katılan kişi sayısı toplam kaçtır?

A) 81

B) 83

C) 91



6. Babam 48 yaşında, ben babamdan 39 yaş küçüğüm, kardeşim de benden 2 yaş küçüktür. Buna göre kardeşim kaç yaşındadır?

A) 7 B) 9 C) 11

7.


Kırk Dört

Yukarıda verilen sayı hangi onluklar arasındadır?

A) 30 - 40

B) 40 - 50

C) 50 - 60




8. Aşağıda modellenmiş olarak verilen sayı kaçtır?

A) 72

B) 75

C) 76



9. Aşağıdaki sayı örüntülerinin hangisinin kuralı farklıdır?

A) 12 - 22 - 32 - 42 - 52

B) 35 - 40 - 45 - 50 - 55

C) 56 - 66 - 76 - 86 - 96

10.

27

24

20

18

15

12

Yukarıdaki örüntüde verilmeyen sayıların toplamı kaçtır?

A) 30

B) 32

C) 33

11. Aysegül'ün 17 keçisi var. Aysegül'ün keçilerinin sayısı bir düzineden kaç fazladır?

A) 5

B) 7

C) 12



12. Veysel 5 yıl önce 33 yaşındaydı. 5 yıl sonra kaç yaşında olur?

- A) 38 B) 43 C) 48

13. Yusuf üçüncü katta olan evlerine ulaşmak için önce 18 basamak çıkmış, biraz dinlenmiş, sonra 28 basamak daha çıkmıştır. Yusuf eve vardığında toplam kaç basamak çıkmıştır?

- A) 30 B) 36 C) 46



14. Bir manav her birinde 15 kilogram çilek bulunan dört kasa çilek almıştır. Manav toplam kaç kilogram çilek almıştır?

- A) 19 B) 60 C) 75

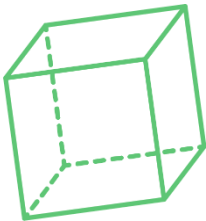


15. Yandaki fidanın uzunluğu 80 santimetredir ve her yıl 9 santimetre uzamaktadır. Buna göre iki yıl sonra bu fidan kaç santimetre boyunda olur?

- A) 88 B) 89 C) 98



16.



Yukarıda verilen geometrik cisimle ilgili verilen bilgilerden hangisi yanlıştır?

- A) Yukarıda verilen şekil bir küptür.
B) Köşe ve kenarları vardır.
C) Toplam 8 yüzü vardır.

17. Bir hayvanat bahçesindeki zürafaların sayısı, yılanların sayısından 27 eksiktir. Hayvanat bahçesinde 56 yılan olduğuna göre, zürafa sayısı kaçtır?

- A) 29
B) 39
C) 83



18. Bir çıkarma işleminde eksilen 55, fark ise 10'dur. Bu çıkarma işleminde çıkan kaçtır?

- A) 31 B) 45 C) 65

19. Bahçemizdeki su deposu 90 kova su ile dolmaktadır. İçinde bir miktar su varken babam 44 kova su eklemiş ve depo dolmuştur. En başta depoda kaç kova su vardı?

- A) 46
B) 56
C) 66



20. Hangi sayının 37 eksiği 38'dir?

- A) 1
B) 49
C) 75



CEVAPLAR

1	A	B	C
2	A	B	C
3	A	B	C
4	A	B	C
5	A	B	C
6	A	B	C
7	A	B	C
8	A	B	C
9	A	B	C
10	A	B	C

11	A	B	C
12	A	B	C
13	A	B	C
14	A	B	C
15	A	B	C
16	A	B	C
17	A	B	C
18	A	B	C
19	A	B	C
20	A	B	C