

3. Sınıf Ara Tatil 5 Gün 5 Sayfa Etkinlik



3. SINIF ARA TATİL ETKİNLİKLERİ 1. GÜN

- Verilen kelimeleri hecelerine ayıralım.

arkadaşlık	→	etkinlik	→	ilkokul	→
bilgisayar	→	huzurevi	→	saat	→
ilkbahar	→	akşamüstü	→	kitaplık	→

- Yazılışları verilen sayıların okunuşlarını, okunuşları verilen sayıların yazılışlarını yazınız.

348	→	501	→	altı yüz on üç	→
909	→	222	→	dört yüz seksen	→
750	→	648	→	yüz dokuz	→

- İstenilen sayıları yazalım.

Üç basamaklı en küçük doğal sayı	→
Üç basamaklı en büyük doğal sayı	→
Üç basamaklı en küçük tek doğal sayı	→
Üç basamaklı en büyük çift doğal sayı	→

- Boşlukları uygun kelimeler ile dolduralım.

- ♥ Dünyamızın şekliye benzer.
- ♥ dünyanın yuvarlak olduğunu düşünen ilk bilim insanıdır.
- ♥ çıktığı gemi seyahati ile dünyanın yuvarlak olduğunu ispatlamıştır.
- ♥ Üzerinde koşup oynadığımız dünya katmanı katmanıdır.
- ♥ Okyanus, göller, denizlerden oluşan katman katmanıdır.
- ♥ katmanının diğer adı atmosferdir.

kara
küre
Pisagor
hava
su
Macellan

- Verilen ifadelerden doğru olanların başına "D", yanlış olanlara "Y" yazalım.

- () Çevreyi kirletmemeli, çöpleri çöp kutusuna atmalı, atmayanları uyarmalıyız.
- () Arkadaşlarımızla oyun oynarken kurallara gerek yoktur.
- () Hayvanlara eziyet etmemeli onları korumalıyız.
- () Grup çalışmalarında görevimizi özveri ile ve eksiksiz yapmalıyız.
- () Arkadaşlık ilişkilerimizde nezaket ifadelerini kullanmamalıyız.
- () Zil çaldığında koşarak dışarı çıkmalı, koşarak içeri girmeliyiz.

3. SINIF ARA TATİL ETKİNLİKLERİ 2. GÜN

- Verilen kelimelerin zıt (karşıt) anlamlarını yazalım.

yumuşak → nazik → iri →
bayat → sevinç → yaş →
özgür → uslu → savaş →

- Tabloyu istenilenlere göre doldurunuz.

SAYI	2 8 3		
BASAMAK ADLARI	YÜZLER BASAMAĞI	ONLAR BASAMAĞI	BİRLER BASAMAĞI
BASAMAK DEĞERİ			
SAYI DEĞERİ			

SAYI	6 0 4		
BASAMAK ADLARI	YÜZLER BASAMAĞI	ONLAR BASAMAĞI	BİRLER BASAMAĞI
BASAMAK DEĞERİ			
SAYI DEĞERİ			

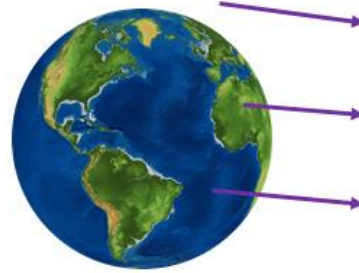

Verilen sayıları en yakın onluğa yuvarlayınız.

- 444 → 267 →
- 123 → 395 →
- 582 → 776 →

Verilen sayıları en yakın yüzlüğe yuvarlayınız.

- 949 → 661 →
- 351 → 214 →
- 725 → 475 →

- Dünyanın katmanlarının isimlerini ilgili yerlere yazalım.



- İyi bir arkadaşta bulunmasını istediğimiz özelliklerin yazılı olduğu kutuları boyayalım.

HOŞGÖRÜLÜ	YALANCI	DÜRÜST	BENCİL	GÜVENİLİR
KABA	YARDIMSEVER	KÜFÜRBAZ	ADALETLİ	ÇIKARCI
KURNAZ	KİBAR	FEDAKÂR	PAYLAŞIMCI	SAYGILI

3. SINIF ARA TATİL ETKİNLİKLERİ 3. GÜN

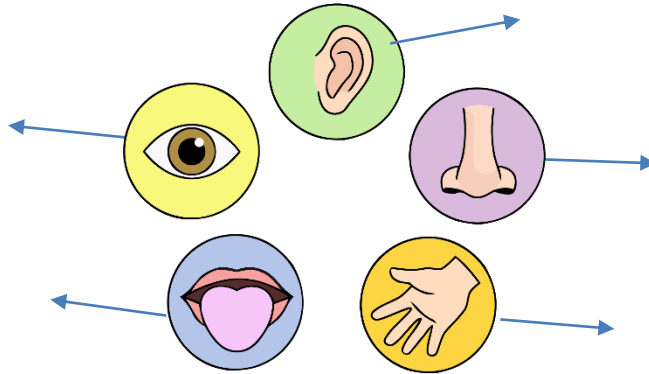
- Verilen kelimelerin eş anlamlarını yazalım.

görev	→	fakir	→	öykü	→
yanıt	→	hekim	→	yürek	→
lisan	→	düş	→	kelime	→

- Altışar, yedişer, sekizer ve dokuzar ritmik saymaları tamamlayalım.

6									60
7									70
8									80
9									90

- Duyu organlarımızın isimlerini ve işlevlerini (görme, duyma, işitme vb.) yazalım.



- Verilen ifadelerden doğru olanların başına "D", yanlış olanlara "Y" yazalım.

- () Bir yerin kuşbakışı, ölçsüz, kâğıt üzerine çizimine kroki adı verilir.
- () Kroki oluştururken, evleri eşyaları çizerken cetvel iletki gibi araçlar kullanabiliriz.
- () Kroki çizerken evler binalar şekiller soru işareti ile gösterilir.
- () Kroki çizerken belli bir ölçü kullanılır.
- () Sınıf, okul, mahalle gibi yerlerin krokisi çizilebilir.

3. SINIF ARA TATİL ETKİNLİKLERİ 4. GÜN

- Verilen kelimeleri sözlük sırasına göre dizip yanlarına numaralandıralım.

beyin	
besin	
bez	

maket	
makas	
madde	

saat	
süt	
soba	

performans	
peri	
pembe	

asker	
aslan	
askı	

cam	
can	
cadde	

şarkı	
şafak	
şarj	

deniz	
ders	
deri	

- Verilen sayıların karşılıklarına Romen rakamlarını yazalım.

5	1	15	18
2	3	12	17
8	6	11	20
4	9	14	19
10	7	13	16



- Verilen toplama işlemlerini yapalım. En alt sıradaki verilmeyen toplananları bulalım

$\begin{array}{r} 517 \\ 182 \\ + \\ \hline \end{array}$	$\begin{array}{r} 256 \\ 210 \\ + \\ \hline \end{array}$	$\begin{array}{r} 348 \\ 401 \\ + \\ \hline \end{array}$	$\begin{array}{r} 555 \\ 412 \\ + \\ \hline \end{array}$
$\begin{array}{r} 703 \\ 296 \\ + \\ \hline \end{array}$	$\begin{array}{r} 157 \\ 120 \\ + \\ \hline \end{array}$	$\begin{array}{r} 228 \\ 172 \\ + \\ \hline \end{array}$	$\begin{array}{r} 614 \\ 195 \\ + \\ \hline \end{array}$
$\begin{array}{r} 458 \\ 163 \\ + \\ \hline \end{array}$	$\begin{array}{r} 379 \\ 259 \\ + \\ \hline \end{array}$	$\begin{array}{r} 288 \\ 154 \\ + \\ \hline \end{array}$	$\begin{array}{r} 609 \\ 211 \\ + \\ \hline \end{array}$
$\begin{array}{r} 512 \\ \\ + \\ \hline 853 \end{array}$	$\begin{array}{r} \\ 493 \\ + \\ \hline 620 \end{array}$	$\begin{array}{r} 1...5 \\ 196 \\ + \\ \hline 391 \end{array}$	$\begin{array}{r} 250 \\ 3...9 \\ + \\ \hline 610 \end{array}$

3. SINIF ARA TATİL ETKİNLİKLERİ 5. GÜN

- Eş sesli kelimelerin farklı anlamları ile cümleler kuralım.

yüz

yaz

ocak

göl

at

dal

- Verilen çıkarma işlemlerini yapalım.

$\begin{array}{r} 589 \\ 266 \\ \hline \end{array}$	$\begin{array}{r} 448 \\ 137 \\ \hline \end{array}$	$\begin{array}{r} 376 \\ 255 \\ \hline \end{array}$	$\begin{array}{r} 787 \\ 427 \\ \hline \end{array}$
$\begin{array}{r} 699 \\ 172 \\ \hline \end{array}$	$\begin{array}{r} 456 \\ 123 \\ \hline \end{array}$	$\begin{array}{r} 867 \\ 155 \\ \hline \end{array}$	$\begin{array}{r} 873 \\ 141 \\ \hline \end{array}$
$\begin{array}{r} 613 \\ 254 \\ \hline \end{array}$	$\begin{array}{r} 523 \\ 287 \\ \hline \end{array}$	$\begin{array}{r} 608 \\ 128 \\ \hline \end{array}$	$\begin{array}{r} 421 \\ 285 \\ \hline \end{array}$
$\begin{array}{r} 912 \\ 453 \\ \hline \end{array}$	$\begin{array}{r} 711 \\ 252 \\ \hline \end{array}$	$\begin{array}{r} 344 \\ 285 \\ \hline \end{array}$	$\begin{array}{r} 546 \\ 379 \\ \hline \end{array}$

- Verilen problemleri dikkatlice çözelim.

♥ Üç basamaklı en büyük çift doğal sayı ile üç basamaklı en küçük tek doğal sayının farkı kaçtır?

♥ 418 sayısının en yakın onluğu ile 351 sayısının en yakın yüzlüğünü toplarsak hangi sayıyı buluruz?