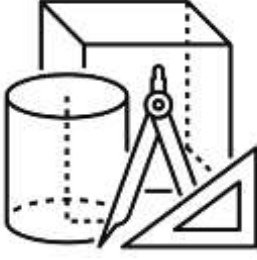




İlkokul



MATHEMATICS



Maslum
TEKİN


A large grid of 20 columns and 5 rows for writing.



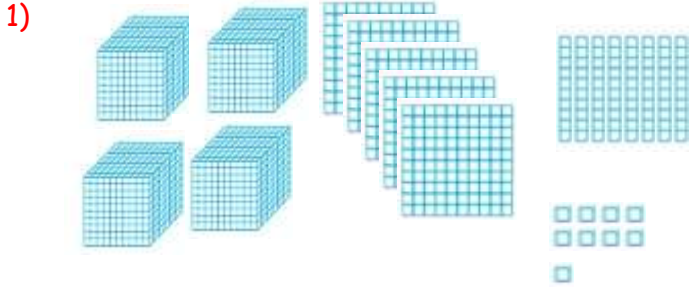
A large grid of 20 columns and 10 rows for writing.

A large grid of 50 squares, arranged in 10 rows and 5 columns, intended for drawing a picture.

[illegible][illegible][illegible]

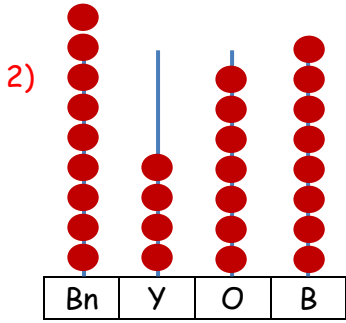


TOPLAMA PROBLEMLERİ



Yukarıda onluk blokları ile verilen doğal sayı ile 4 basamaklı rakamları farklı en büyük tek sayının toplamı kaçtır?

	4	5	8	9
+	9	8	7	5
	1	4	4	6
				4



Yukarıdaki abaküste gösterilen doğal sayı ile birler bölümü 49, binler bölümü 6 olan doğal sayının toplamı kaç eder?

	9	4	7	8
+	6	0	4	9
	1	5	5	2
				7

3) Birler bölümü 678, binler bölümü 4 olan doğal sayı ile dört basamaklı rakamları birbirinden farklı en küçük sayının toplamı kaçtır?

	4	6	7	8
+	1	0	2	3
	5	7	0	1

4) Bir tablet 6 599 TL'dir. Cep telefonunun fiyatı ise tabletin fiyatından 1 875 TL fazladır. Hem tablet hem de cep telefonunu birlikte almak isteyen biri ne kadar ödeme yapmalıdır?

	6	5	9	9
+	1	8	7	5
	8	4	7	4

	8	4	7	4
+	6	5	9	9
	1	5	0	7
				3

5) Bir sinema filmini birinci gün 3 893 kişi, ikinci gün 4 685 kişi ve üçüncü gün ise 3 786 kişi izlediğine göre bu filmi üç günde toplam kaç kişi izlemiştir?

	3	8	9	3
	4	6	8	5
+	3	7	8	6
	1	2	3	6
				4

6) Bir meyve bahçesinde birinci gün 3 698 kg, ikinci gün 3 758 kg üçüncü gün ise iki günün toplamı kadar kayısı toplanmıştır. Buna göre üç günde toplanan kayısı kaç kg'dır?

	3	6	9	8
+	3	7	5	8
	7	4	5	6

	7	4	5	6
	3	6	9	8
+	3	7	5	8
	1	4	9	1
				2

7) "Artık Toprağa Bağlı Değilim" hikâye kitabı birinci basımda 4 999 adet satmıştır. İkinci basımda ise ilk basım satılan miktarın 4 785 fazlası kadar satılmıştır. Buna göre toplam kaç kitap satılmıştır?

	4	9	9	9
+	4	7	8	5
	9	7	8	4

	9	7	8	4
+	4	9	9	9
	1	4	7	8
				3

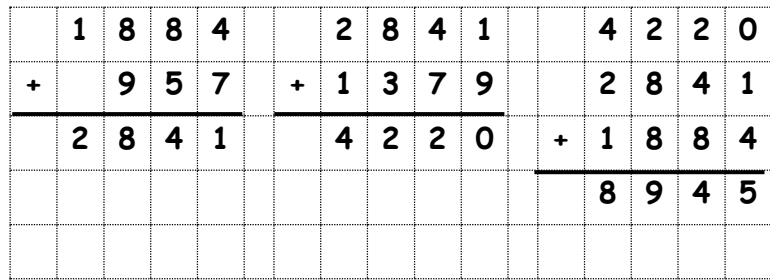
Müşlüm
TEKİN



[illegible][illegible][illegible]

$\begin{array}{r} 3847 \\ - 963 \\ \hline 2884 \end{array}$	$\begin{array}{r} 3847 \\ + 2884 \\ \hline 6731 \end{array}$
---	--

[illegible][illegible][illegible][illegible]

[illegible][illegible][illegible][illegible][illegible]

2	0	9	7	2	7	7	2	3	4	4	7	
+	6	7	5	+	6	7	5	2	7	7	2	
<hr/>				<hr/>				<hr/>				
2	7	7	2	3	4	4	7	+	2	0	9	7
								<hr/>				
								8	3	1	6	

[illegible]