


PROBLEM ÇÖZME ÇALIŞMA KÂĞIDI - 2


1. Gürsel 50 TL'sinin 24 TL'si ile top, 16 TL'si ile şapka aldı. Gürsel'in kaç TL'si kaldı?




5. Bir fırıncı ürettiği 85 ekmeğin, 40'ını sabah, 16'sını öğlen, 28'ini de akşam satmıştır. Fırında kaç ekmek kalmıştır?




2. Bir bakkal her biri 25 kilogram gelen peynir tenekelerinden 3 teneke aldı. Bakkal kaç kilogram peynir almıştır?




6. Sınıfımızda 16 erkek, erkeklerden iki az kız öğrenci vardır. Sınıf mevcudumuz kaçtır?




3. Çiçekçideki 7 deste çiçeğin 48'i satıldığına göre, çiçekçide kaç çiçek kalmıştır?



7. Bir çıkarma işleminde çıkan 15, fark 28 ise, eksilen kaçtır?



4. Arda deneme sınavındaki 60 sorunun 5 tanesini yanlış yaptı, 3 tanesini de boş bıraktı. Arda kaç doğru yapmıştır?



8. Bahçemizde 18 çam, 16 sedir, 14'de erguvan ağacı vardır. Bahçemizdeki toplam ağaç sayısı, 5 desteden kaç eksiktir?

