

Adı :
Soyadı :



Not:

3. SINIF

12. HAFTA KAZANIM DEĞERLENDİRME

1. Aşağıdakilerden hangisi "arkadaşlık" kelimesinin çağrıştırdıklarından biri olamaz?

- A) dostluk
- B) paylaşmak
- C) kıskançlık

2. Aşağıdaki kelimelerin hangisinde hecelerine ayırırken bir hata yapılmıştır?

- A) hu-zu-re-vi
- B) de-niz-a-tı
- C) kızı-lay



3. Satır sonuna sığmayan kelimelerle ilgili hangi tabelada hata yapılmıştır?

- A) 1
- B) 2
- C) 3

4. Aşağıdaki cümlelerden hangisinde büyük harflerin yazımı ile ilgili bir yanlışlık yapılmıştır?

- A) Yazın antalya'ya gideceğiz.
- B) Kurban Bayramı yaklaşıyor.
- C) Bu güzel kitabı Funda Menekşe yazmış.

5. Aşağıdaki cümlelerin hangisinde yazım yanlış yapılmış bir kelime vardır?

- A) Evde yalnız kalmaktan korkmuyordu.
- B) Zil çalınca koşarak tenefüse çıktılar.
- C) Ahırdaki eşek birden anırmaya başladı.

6,7,8,9 ve 10. soruları grafiğe göre cevaplayınız.



6. Noyan, Melek'ten kaç oy daha fazla almıştır?

- A) 2
- B) 6
- C) 8

7. En az oy alan öğrenci kaç oy almıştır?

- A) 2
- B) 4
- C) 6

8. Hangi öğrenciler aynı sayıda oy almıştır?

- A) Melek – Noyan
- B) Noyan – Sibel
- C) Melek – Sibel

9. Tunç'un aldığı oy sayısı, Noyan'dan kaç eksiktir?

- A) 2
- B) 4
- C) 6

10. Sınıftaki herkes 1 oy kullandığına göre, sınıf mevcudu kaçtır?

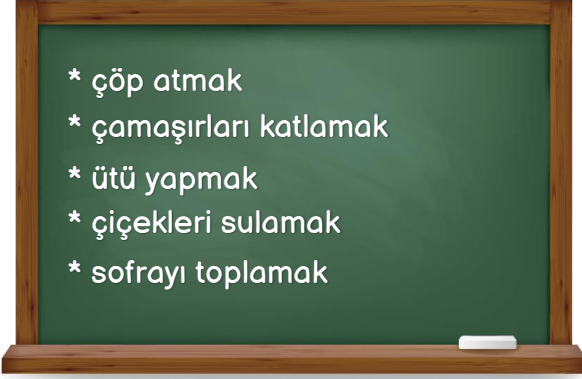
- A) 24
- B) 26
- C) 28

11. "Evdeki işleri yaparak daha kısa sürede bitirebiliriz." cümlesinde boş bırakılan yere hangisi gelmelidir?

- A) görev
- B) iş bölümü
- C) sorumluluk

12. Aşağıdaki ifadelerden hangisi yanlıştır?

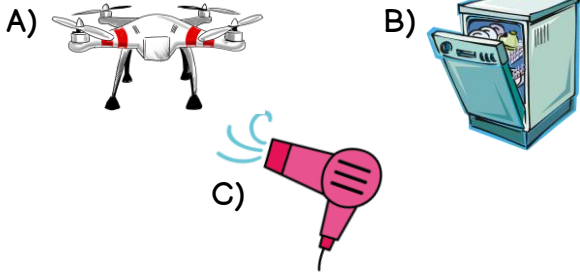
- A) Aile bireyleri sorumluluklarını yerine getirmelidir.
B) Evdeki görev dağılımı adaletli olmalıdır.
C) Okul çantasını hazırlamak annenin görevidir.



13. Yukarıdaki tahtada yazılı aile içi yapılabilecek görevlerden kaç tanesini biz çocuklar yapabiliriz?

- A) 3 B) 4 C) 5

14. Aşağıdakilerden hangisi evde kullandığımız alet veya teknolojik ürünlerden biri değildir?



15. Aşağıdaki teknolojik ürünlerden hangisi haberleşme amaçlı kullanılmaktadır?

- A) Klima B) Fırın C) Televizyon

16. Aşağıdaki maddelerden hangisini koku alma duyu organımızla ayırt edemeyiz?

- A) soğan B) su C) parfüm

17. Aşağıdaki varlıklardan hangisi hem sert hem de pürüzlüdür?


- A) ayna B) sünger C) taş

18. "Maddelerin özelliklerini organlarımızla algılayabiliriz."

Verilen ifadede boşluğa hangisi gelmelidir?

- A) duyu
B) vücut
C) insan

19.

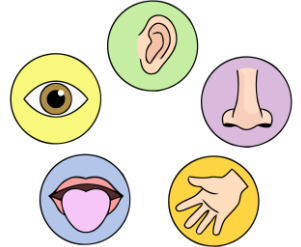


Ece, kırılğan cismin yazılı olduğu balonu patlatacaktır. Kaç numaralı balonu patlatmalıdır?

- A) 1 B) 2 C) 3

20. Aşağıdaki varlıkları niteleyen durumların hangisinde farklı bir duyu organı kullanılmıştır?

- A) Kırmızı elbisemi giyeceğim.
B) Ağaçların yaprakları sarardı.
C) Odam tertemiz kokuyor.



CEVAPLAR

- 1 A B C
2 A B C
3 A B C
4 A B C
5 A B C
6 A B C
7 A B C
8 A B C
9 A B C
10 A B C

- 11 A B C
12 A B C
13 A B C
14 A B C
15 A B C
16 A B C
17 A B C
18 A B C
19 A B C
20 A B C

Başarılar dilerim... 😊