

SIVILARI ÖLÇME PROBLEMLERİ

"Eğitimidir ki bir milleti; ya hür, bağımsız, şanlı, yüksek bir topluluk halinde yaşatır; ya da esaret ve sefaletle terk eder."

Gazi Mustafa Kemal Atatürk



1. Bir kavanoza, sürahiye ve kovaya aynı çay bardağı ile su dolduruluyor. Hangisi en geç dolar?

- A) Kavanoz B) Sürahi C) Kova



2. Bir çay bardağına, su bardağına ve pet şişeye kaşık ile su dolduruluyor. Hangisi en önce dolar?

- A) Çay bardağı B) Fincan C) Pet şişe




3. Bir günde 5 sürahi su tüketen bir aile 3 günde kaç sürahi su tüketir?

- A) 10 B) 15 C) 20




4. Bir tencere 20 bardak su ile doluyor. 7 bardak su döktüm. Kaç bardak daha dökersem tencere dolar?

- A) 13 B) 15 C) 17



5. 1 çay bardağı 25 tatlı kaşığı çay almaktadır. 3 çay bardağı için kaç tatlı kaşığı çay gerekir?

- A) 55 B) 65 C) 75



6. Aynı bardakla pet şişeye, sürahiye ve leğene 3 bardak su dökersem hangisinde su seviyesi daha yukarıda gözüktür?

- A) Pet şişe B) Sürahi C) Leğen




7. 4 sürahi su ile bir kova doluyor ise, 12 sürahi su ile kaç tane kova dolar?

- A) 2 B) 3 C) 4



8. Bir sürahide 12 bardaklık limonata vardı. Elif 1 bardak, Yusuf 2 bardak, Hakan 3 bardak limonata içti. Sürahide kaç bardaklık limonata kaldı?

- A) 5 B) 6 C) 7



9. Bir demlik 4 bardak su ile dolmaktadır. 5 demlik kaç bardak su ile dolar?

- A) 20 B) 25 C) 30



10. Bir şişe meyve suyu, 5 bardağı eşit olarak dolduruyor. 3 şişe meyve suyu için kaç bardağa ihtiyacımız vardır?

- A) 14 B) 15 C) 16



11. Bir kutu süttten 5 bardak süt çıkıyor. 5 kutu süttten kaç bardak süt çıkar?

- A) 15 B) 20 C) 25




12. Bir çorba kâsesi 2 kepçe ile doluyor. 5 kâse çorba doldurma için kaç kepçe çorba gerekir?

- A) 10 B) 12 C) 14



13. Bir demlikten 12 bardak çay çıkıyor ise, 3 demlikten kaç bardak çay çıkar?

- A) 15 B) 24 C) 36




14. Hastalanan Ece her gün 3 kaşık şurup içmektedir. Ece bir haftanın sonunda kaç kaşık şurup içmiş olur?

- A) 11 B) 21 C) 31



15. Bir su deposunda 30 kovalık su vardır. Sabah 14, öğlen 6, akşam 9 kova su kullanılırsa depoda kaç kova su kalır?

- A) 1 B) 2 C) 3



16. Bir kovada 8 tas su vardır ve yarısı doludur. Kova tam doluyken içinde kaç tas su vardır?

- A) 10 B) 13 C) 16

