

Adı Soyadı:


3. SINIF



Not:

31. HAFTA KAZANIM DEĞERLENDİRME

Küçük tavşan kent ormanında ailesiyle birlikte mutlu bir şekilde yaşıyordu. Yuvalarında otururken büyük bir gürültü ile irkildiler. Delikten çıkıp baktıklarında dev iş makineleri gördüler. Dev makineler ağaçları kesmeye başlamıştı. Küçük tavşan ve ailesi olan biteni anlayamamıştı.



O sırada ormanın girişine bir tabela konulduğunu fark ettiler. Koşarak tabelaya bakmaya giden küçük tavşan, gördükleri karşısında çok üzüldü. Çünkü tabelada ormana bir alışveriş merkezi inşa edileceği yazıyordu. Bu tavşan ailesi için kötü haberdi. Artık orada yaşamaları imkansızdı.

İlk 3 soru metne göre cevaplandırılacaktır.

1. Tavşan ve ailesini uyandıran gürültünün sebebi neymiş?

- A) İş makineleri B) Yangın C) Patlama sesi

2. Küçük tavşanın üzüntüsünün sebebi nedir?

- A) Orman yangını çıkması
B) Ormana alışveriş merkezi inşa edilecek olması
C) Çevre kirliliği

3. Metinde, aşağıdaki hikaye unsurlarından hangisine yer verilmemiştir?

- A) kişi B) yer C) zaman

4. Aşağıdaki sözcüklerden hangisi sözlükte diğerlerinden sonra gelir?

- A) dükkan
B) düşünce
C) düğüm



5. Aşağıdaki cümlelerin hangisinde bir karşılaştırma yapılmamıştır?

- A) Saat beş gibi yağmur yağacakmış.
B) Mehmet, Utku gibi hızlı koşamıyor.
C) Yasemin'de Duru gibi güzel yazı yazıyor.

6. Fatma, Afyonkarahisar ile Ankara arasındaki mesafeyi ölçmek istiyor, hangi uzunluk ölçme birimini kullanmalıdır?

- A) kilometre B) santimetre C) metre

7. Doğduğunda 49 cm olan Yasemin, şu an 1 metre 42 santimetre boyundadır. Yasemin, doğduktan sonra kaç cm uzamıştır?

- A) 83 cm B) 93 cm C) 103 cm


8. Terzi Muharrem Usta, 5 metre kumaşın önce 2 metresini, sonra da 1 m 75 cm'sini kullandı. Muharrem ustanın kaç cm kumaşı kaldı?

- A) 275 cm
B) 225 cm
C) 125 cm



9. Yanda verilen şekilde iki nokta arası 1 birim ise, şeklin çevresi kaç birimdir?

- A) 19 birim
B) 20 birim
C) 21 birim



DİKKAT SORUSU



10. A ve B şehirleri arası 475 km'dir. A şehrindeki araç ok yönünde 190 km, B şehrindeki araç ok yönünde 170 km ilerlerse, iki araç arasında kaç km mesafe kalır?

- A) 115 km B) 125 km C) 135 km



11. Üç Olimpiyat altın madalyası, yedi Dünya Şampiyonluğu ve altı Avrupa Şampiyonluğu olan, tam 46 kez dünya rekoru kıran milli haltercimiz kimdir?

- A) Halil Mutlu
- B) Hamza Yerlikaya
- C) Naim Süleymanoğlu



12. Kâğıt sanayisindeki buluşlarından dolayı yurt içi ve yurt dışında çeşitli ödüller alan kişi kimdir?

- A) Mehmet Ali Kağıtçı
- B) İlber Ortaylı
- C) Celal Şengör



13. Toryum madeninin enerji sorununa temiz ve ekonomik bir çözüm olabileceği yolundaki görüşleri ile tanınan ancak şüpheli bir uçak kazası ile kaybettiğimiz değerli Türk bilim kadını kimdir?

- A) Sabiha Gökçen
- B) Engin Arık
- C) Songül Yakut

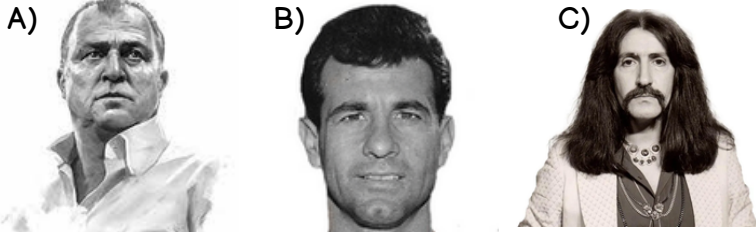


14. Türkiye'nin ilk kadın arkeoloğu aşağıdakilerden hangisidir?

- A) Jale İnan
- B) Gördesli Makbule
- C) Halide Edip Adıvar



15. Aşağıda görselleri verilen kişilerden hangisi ülkemize sanat alanında katkı sağlamıştır?



16. Aşağıdakilerden hangisi akü ile çalışır?



17. "Birden fazla pilin bir araya gelmesi ile oluşturulan enerji kaynağına denir." cümlesinde boş bırakılan yere hangisi gelmelidir?

- A) batarya
- B) akü
- C) şehir elektriği



18. Verilen ifadelerden yanlış olan hangisidir?

- A) Cep telefonu bataryası sayesinde çalışır.
- B) Dizüstü bilgisayar akü sayesinde çalışır.
- C) En düşük enerjiye sahip elektrik kaynağı pildir.



19. Aşağıdaki elektrikli araç gereçler ve kaynakları eşleştirmelerinden yanlış olan hangisidir?

- A) ütü - batarya
- B) fırın - şehir elektriği
- C) duvar saati - pil



20. Su, doğalgaz, kömür, rüzgar, güneş gibi kaynaklar kullanılarak üretilen enerji türüne ne ad verilir?

- A) pil
- B) batarya
- C) şehir elektriği



CEVAPLAR

1	A	B	C
2	A	B	C
3	A	B	C
4	A	B	C
5	A	B	C
6	A	B	C
7	A	B	C
8	A	B	C
9	A	B	C
10	A	B	C

11	A	B	C
12	A	B	C
13	A	B	C
14	A	B	C
15	A	B	C
16	A	B	C
17	A	B	C
18	A	B	C
19	A	B	C
20	A	B	C



31. HAFTA KAZANIM DEĞERLENDİRME

CEVAP ANAHTARI

1	A
2	B
3	C
4	B
5	A
6	A
7	B
8	C
9	B
10	A

11	C
12	A
13	B
14	A
15	C
16	C
17	A
18	B
19	A
20	C

