




İlkokul

MATEMATİK

Müslüm
Tekin



İki basamaklı sayıları karşılaştırırken:

- Sayıları karşılaştırılırken sayıların onlar basamağındaki rakama bakılır.
- Onlar basamağındaki rakamı büyük olan sayı diğer sayıdan daha büyüktür.

Örnek:

74 ile 46 sayılarını karşılaştıracak olursak.

74 büyüktür 46

Birinci sayımızın onlar basamağındaki rakam 7, ikinci sayımızın onlar basamağındaki rakam 4, olduğuna göre 74 büyüktür 46 olur.

Örnek:

32 ile 39 sayılarını karşılaştıracak olursak.

32 küçüktür 39

Birinci sayımız ile ikinci sayımızın onlar basamağındaki rakamlar eşit ise bu durumda birler basamağındaki rakamlara bakarız.

Birinci sayımızın birler basamağındaki rakam 2, ikinci sayımızın birler basamağındaki rakam 9 olduğuna göre 32 küçüktür 39 olur.

ETKİNLİK 1:

Aşağıdaki sayı çiftlerinden küçük olanları maviye boyayalım.

19	56	99	65
43	27	78	48
77	59	45	96
83	73	85	54
70	95	51	89
40	69	87	67

Aşağıdaki sayı çiftlerinden büyük olanları kırmızıya boyayalım.

72	92	73	70
94	15	94	91
13	32	44	75
65	61	86	96
45	55	81	89
34	49	80	42



ETKİNLİK 2:

Aşağıda boş bırakılan yerlere örnekteki gibi büyüktür, küçüktür veya eşittir kelimelerinden uygun olanı yazalım.



57 **büyüktür** 26

77 97

14 35

88 64

75 75

81 52

22 28

44 55

84 80

68 68

61 49

37 41

71 50

11 18

16 20

60 33

53 24

86 98

12 21

66 66

30 36

62 47

58 42

23 29

82 82

93 91

79 63

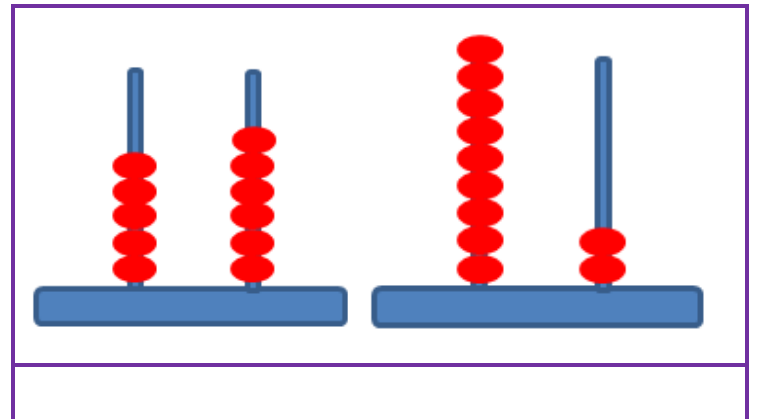
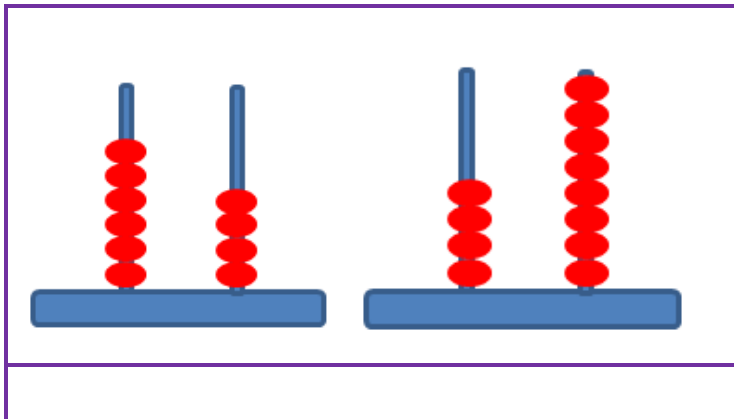
25 38

17 90

34 34

ETKİNLİK 3:


Aşağıda verilen abaküslerde verilen sayıları bularak yazalım ve iki sayıyı karşılaştıralım.



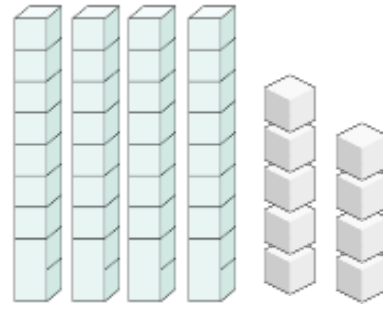
ETKİNLİK 4:



Aşağıda modellenen sayıları yazalım ve karşılaştıralım.

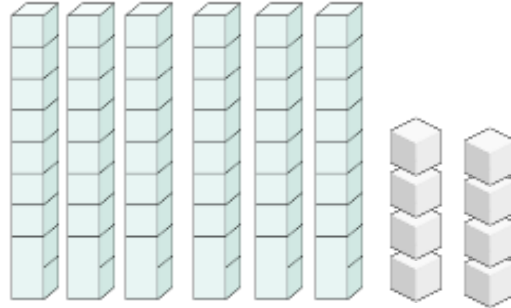
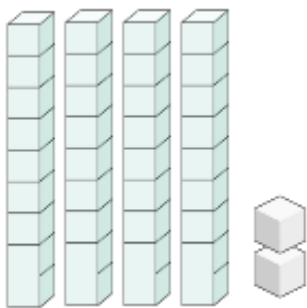
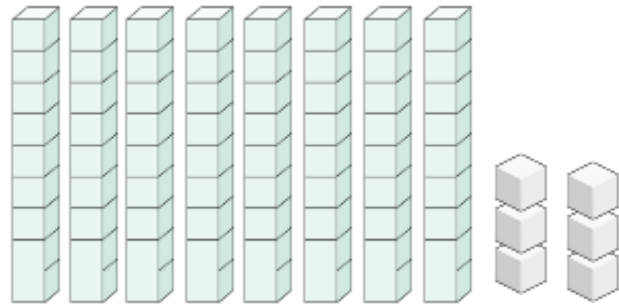
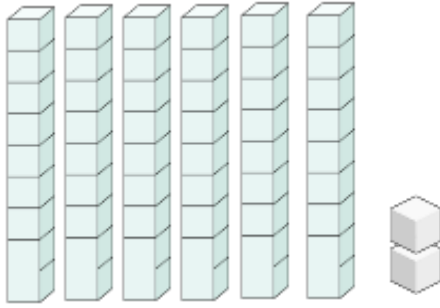


73

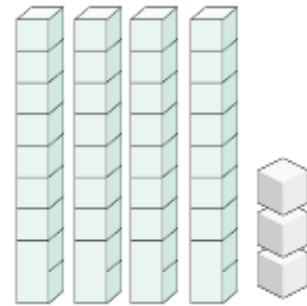



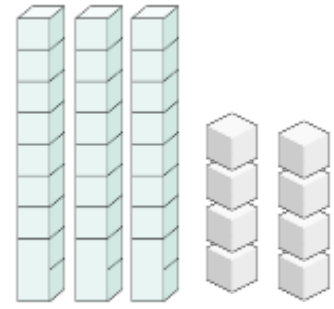
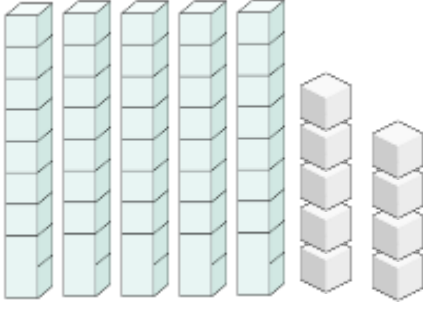
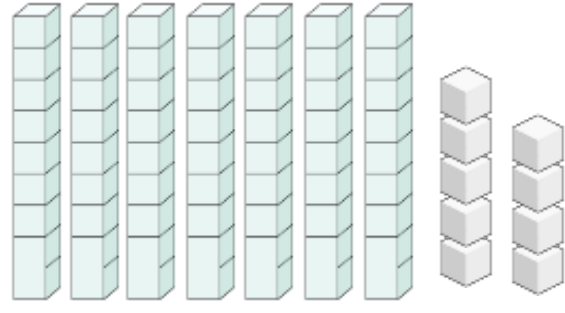

büyüktür

49



**Müslüm
Tekin**





ETKİNLİK 5:

**Müslüm
Tekin**

Aşağıda verilen sayıları büyükten küçüğe doğru sıralayınız.

 36 66 51 22 →

 52 84 16 68 →

 24 39 82 98 →

 13 63 83 33 →

 99 25 76 56 →

 53 87 21 35 →

 58 95 26 78 →

ETKİNLİK 6:

Aşağıda verilen sayıları küçükten büyüğe doğru sıralayınız.

46	27	37	15
----	----	----	----

 →

--	--	--	--

28	43	38	19
----	----	----	----

 →

--	--	--	--

29	33	19	40
----	----	----	----

 →

--	--	--	--

35	16	23	75
----	----	----	----

 →

--	--	--	--

22	99	85	52
----	----	----	----

 →

--	--	--	--

26	64	53	11
----	----	----	----

 →

--	--	--	--

70	34	19	47
----	----	----	----

 →

--	--	--	--

48	13	95	25
----	----	----	----

 →

--	--	--	--



ETKİNLİK 7:

Aşağıda verilen sayı dizilerinde en büyük sayıyı maviye, en küçük sayıyı kırmızıya boyayalım.

18	78	30	56
----	----	----	----

18	78	30	56
----	----	----	----

32	97	63	60
----	----	----	----

32	97	63	20
----	----	----	----

21	87	66	41
----	----	----	----

21	87	66	41
----	----	----	----

74	93	17	55
----	----	----	----

74	93	17	55
----	----	----	----