

İlkokul



MATEMATİK



ARA TATİL DEĞERLENDİRME TESTİ



Müslüm
TEKİN

AÇILAR ETKİNLİK

1 Aşağıdaki kesirlerden bütün olan kesri bulunuz?

- A) $\frac{7}{9}$ B) $\frac{8}{3}$ C) $\frac{9}{9}$ D) $\frac{10}{12}$

2



Yandaki kesrin okunuşu aşağıdakilerden hangisidir?

- A) $\frac{7}{8}$ B) $\frac{8}{8}$ C) $\frac{9}{8}$ D) $\frac{10}{8}$

3



Yandaki kesirde kaç tane birim kesir bulunmaktadır?

- A) 4 B) 5 C) 6 D) 7

4



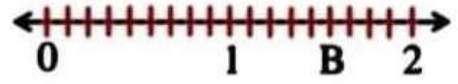
Sayı doğrusundaki "A" kesri aşağıdaki kesirlerden hangisidir?

- A) $2\frac{2}{4}$ B) $2\frac{1}{4}$ C) $1\frac{3}{4}$ D) $1\frac{2}{4}$

Mislim
TEKİN



5



Sayı doğrusundaki "B" kesri aşağıdaki kesirlerden hangisidir?

- A) $\frac{12}{9}$ B) $\frac{13}{9}$ C) $\frac{14}{9}$ D) $\frac{15}{9}$

6

$$\frac{1}{8}, \frac{1}{3}, \frac{1}{12}, \frac{1}{9}$$

Yukarıdaki kesirleri küçükten büyüğe doğru sıralandığında dördüncü sıradaki kesir aşağıdakilerden hangisidir?

- A) $\frac{1}{3}$ B) $\frac{1}{8}$ C) $\frac{1}{9}$ D) $\frac{1}{12}$

7

Aşağıdaki karşılaştırmalardan hangisi yanlıştır?

- A) $\frac{1}{11} < \frac{1}{7}$ B) $\frac{1}{8} > \frac{1}{3}$
C) $\frac{1}{4} > \frac{1}{9}$ D) $\frac{1}{25} < \frac{1}{18}$

8

Aşağıdaki karşılaştırmalardan hangisi yanlıştır?

- A) $\frac{9}{18} > \frac{7}{18}$ B) $\frac{11}{24} < \frac{21}{24}$
C) $\frac{2}{25} < \frac{16}{25}$ D) $\frac{17}{43} > \frac{23}{43}$

9 $4\frac{18}{32} + 2\frac{9}{32} = ?$ işleminin sonucu aşağıdakilerden hangisidir?

- A) $6\frac{25}{32}$ B) $6\frac{26}{32}$ C) $6\frac{27}{32}$ D) $6\frac{28}{32}$

10 $9\frac{15}{52} - \frac{8}{52} = ?$ işleminin sonucu aşağıdakilerden hangisidir?

- A) $9\frac{7}{52}$ B) $9\frac{8}{52}$ C) $8\frac{7}{52}$ D) $8\frac{8}{52}$

11 Kerim 238 lirasının $\frac{6}{7}$ 'sını harcadığında geriye kaç lirası kalır?

- A) 33 B) 34 C) 35 D) 36

12 3 saatin $\frac{7}{9}$ 'si kaç dakikadır?

- A) 440 B) 340 C) 240 D) 140

13 $\frac{8}{9}$ 'i 128 olan sayı kaçtır?

- A) 134 B) 144 C) 154 D) 164

14 $\frac{4}{8}$ 'ü ile $\frac{3}{8}$ 'ünün toplamı 84 olan sayının çeyreği kaçtır?

- A) 27 B) 26 C) 25 D) 24

Mesulüm
TEKİN

15 9 saat 57 dakika, kaç dakikadır?

- A) 587 B) 597 C) 607 D) 617

16 515 saniye, kaç dakika kaç saniyedir?

- A) 8 sa. 35 dk. B) 9 sa. 35 dk.
C) 8 sa. 45 dk. D) 9 sa. 45 dk.

17 148 ay, kaç yıl kaç aydır?

- A) 10 yıl 4 ay B) 11 yıl 4 ay
C) 12 yıl 4 ay D) 13 yıl 5 ay

18 8 ay 5 hafta, kaç gündür? (1 ay 30 gündür)


- A) 305 B) 295 C) 285 D) 275

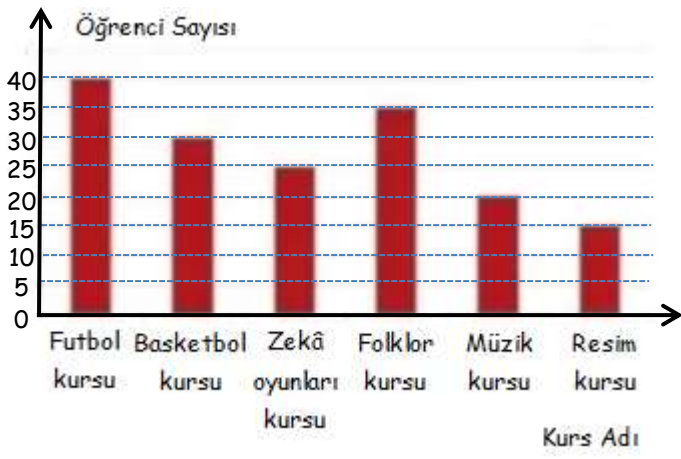
19 Her gün 50 dakika oyun oynayan Mert 18 günde kaç saat oyun oynamış olur?

- A) 17 B) 16 C) 15 D) 14

20 Tarsus'tan 08.15'de hareket eden bir otobüs 3 saat 58 dakika sonra Kahramanmaraş'a varıyor. Buna göre otobüsün Kahramanmaraş'a varış saati kaçtır?

- A) 11.30 B) 12.13 C) 13.32 D) 14.36





21, 22 ve 23'üncü soruları grafiğe göre cevaplayınız.

21 En çok ve en az tercih edilen kurslar hangileridir?

- A) Basketbol kursu - Müzik kursu
 B) Zekâ oyunları kursu - Resim kursu
 C) Futbol kursu - Resim kursu
 D) Folklor kursu - Müzik kursu

22 Kurs alan toplam öğrenci sayısı kaçtır?

A) 195 B) 185 C) 175 D) 165


23 En çok ve en az tercih edilen kurs sayılarının toplamı folklor kursuna gidenlerin sayısından kaç fazladır?

- A) 20 B) 30 C) 25 D) 35

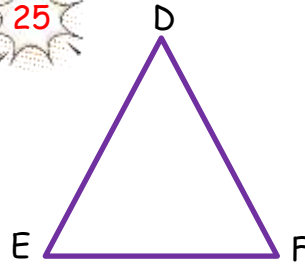
24 4 saatte 384 km giden bir otomobil, $\frac{6}{8}$ saatte kaç km yol gider?

- A) 71 B) 72 C) 73 D) 74

Müslüm
TEKİN



25

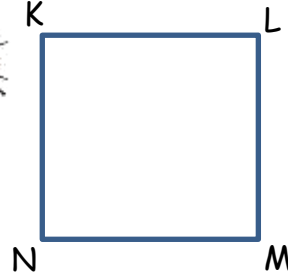


- I. DEF üçgeni
 II. FED üçgeni
 III. EDF üçgeni

Yukarıdaki üçgen isimlendirilmelerinden hangileri doğrudur?

- A) Yalnız I B) Yalnız II
 C) I ve III D) I, II ve III

26



Yandaki kareyi isimlendirmek istersek aşağıdakilerden hangisini kullanamayız?

- A) KMN L karesi B) KLMN karesi
 C) LMNK karesi D) NKLM karesi

27



Yandaki dikdörtgeni isimlendirmek için aşağıdakilerden hangisini kullanamayız?

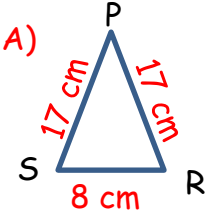
- A) ACDB dikdörtgeni B) ABCD dikdörtgeni
 C) BCDA dikdörtgeni D) CDAB dikdörtgeni

28

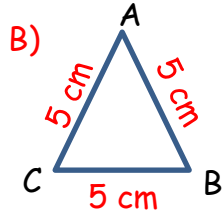
Aşağıdaki harflerin hangisinde açı vardır?

- A) Ç B) J C) E D) Ö

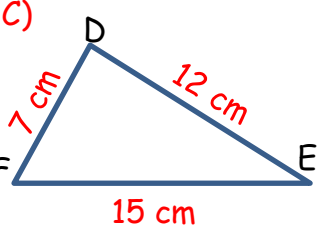
29 Aşağıdaki üçgen isimlendirmelerinden hangisi yanlıştır?



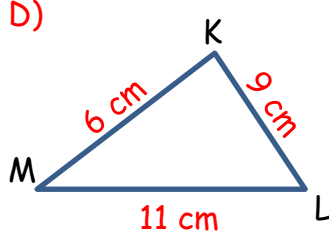
İkizkenar Üçgen



Eşkenar Üçgen



Çeşitkenar Üçgen

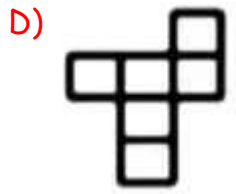
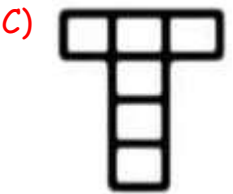
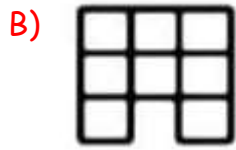
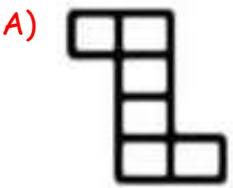


İkizkenar Üçgen

30 Aşağıdakilerden hangisi kenar uzunluklarına göre bir üçgen çeşidi değildir?

- A) Eşkenar üçgen B) Çeşitkenar üçgen
C) İkizkenar üçgen D) Geniş açılı üçgen

31 Aşağıdaki açılımlardan hangisi küpe ait değildir?




Mesleğin
TEKİN



32

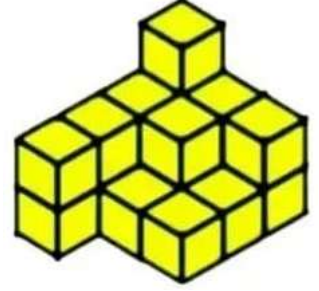
Yandaki yapı kaç eş küp kullanılarak yapılmıştır?



- A) 18 B) 19 C) 20 D) 21

33

Yandaki yapı kaç eş küp kullanılarak yapılmıştır?



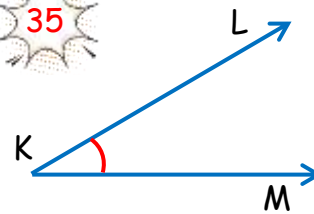
- A) 18 B) 19 C) 20 D) 21

34

Aşağıdakilerden hangisi düzleme örnek olarak gösterilemez?



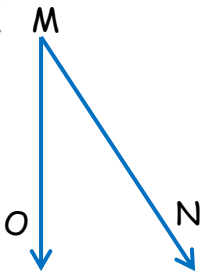
35



Yandaki açının gösterilişi aşağıdakilerden hangisidir?

- A) K B) \hat{K} C) LK D) MK

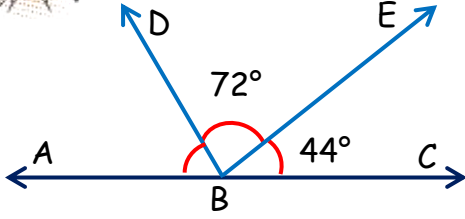
36



Yandaki açının gösterilişi aşağıdakilerden hangisidir?

- A) \hat{O} B) \hat{N} C) \hat{M} D) \hat{P}

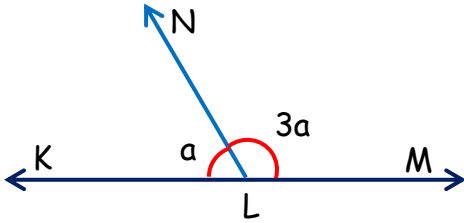
37



Yukarıdaki şekildeki \hat{ABD} açısı aşağıdakilerden hangisidir?

- A) 62° B) 64° C) 66° D) 68°

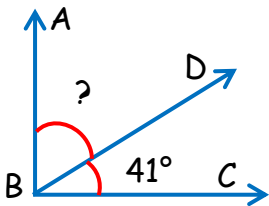
38



Yukarıdaki şekilde "3a" ile gösterilen \hat{NLM} açısı kaç derecedir?

- A) 155° B) 145° C) 135° D) 125°

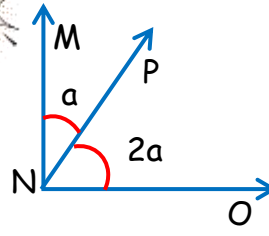
39



Yandaki şekildeki \hat{ABC} açısı kaç derecedir?


- A) 52° B) 51° C) 50° D) 49°

40



Yandaki şekilde "2a" ile gösterilen \hat{PNO} açısı kaç derecedir?

- A) 30° B) 60° C) 90° D) 120°




Müslüm
TEKİN

CEVAP ANAHTARI

1	2	3	4	5	6	7	8	9	10	11	12	13	14	15
C	A	C	A	C	A	B	D	C	A	B	D	B	D	B

16	17	18	19	20	21	22	23	24	25	26	27	28	29	30
A	C	D	C	B	C	D	A	B	D	A	A	C	D	D

31	32	33	34	35	36	37	38	39	40
B	C	A	D	B	C	B	C	D	B



Maslum
TEKİN