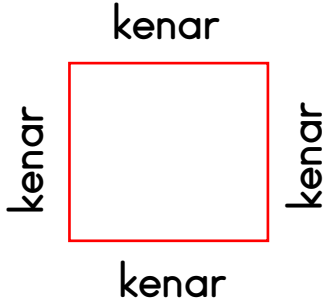
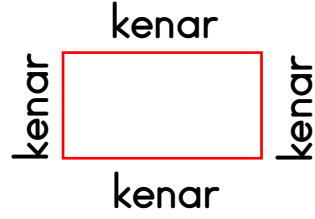
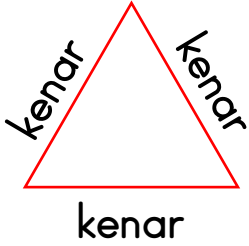


GEOMETRİK ŞEKİLLER**KARE**


- Dört eşit kenara sahip şekillere **kare** denir.

**DİKDÖRTGEN**

- Dört kenarlı, karşılıklı kenarları birbirine eşit, iki uzun iki kısa kenarı olan şekillere **dikdörtgen** denir.

**ÜÇGEN**

- Üç kenarı olan kapalı şekillere **üçgen** denir.

**ÇEMBER**

- Yuvarlak kapalı şekillere **çember** denir.
- Çemberin kenarı ve köşesi yoktur.



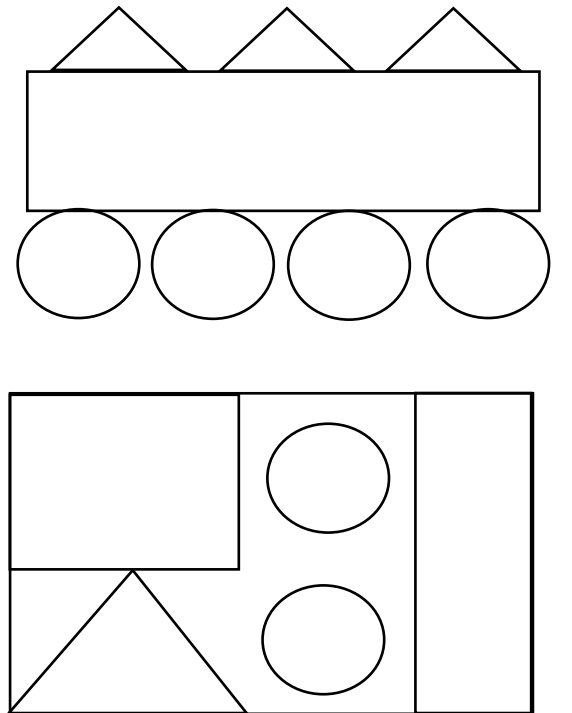
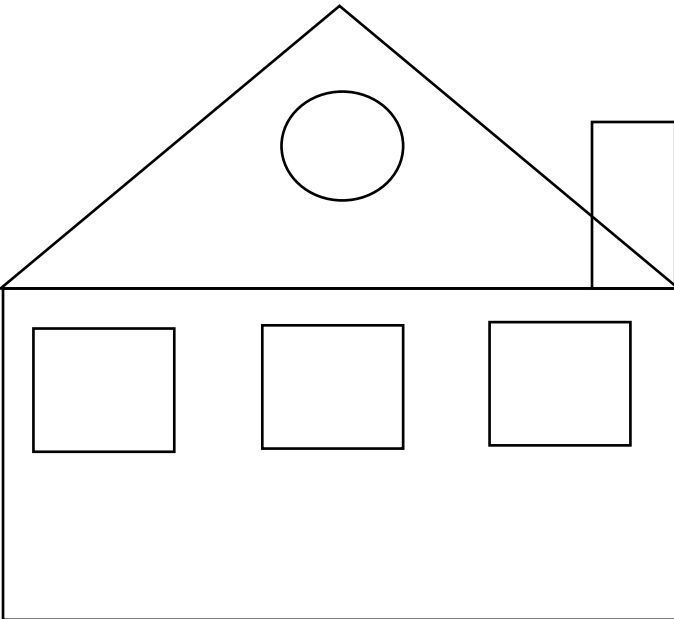
Aşağıda ismi verilen geometrik şekillere birer örnek çiziniz.

KARE	ÜÇGEN
ÇEMBER	DİKDÖRTGEN



Aşağıdaki yönergelere göre geometrik şekilleri boyayınız.

Üçgen → Kırmızı	Kare → Mavi
Çember → Sarı	Dikdörtgen → Turuncu





Aşağıdaki noktalı yerlere uygun geometrik şekillerin adlarını yazınız.

kare

dikdörtgen

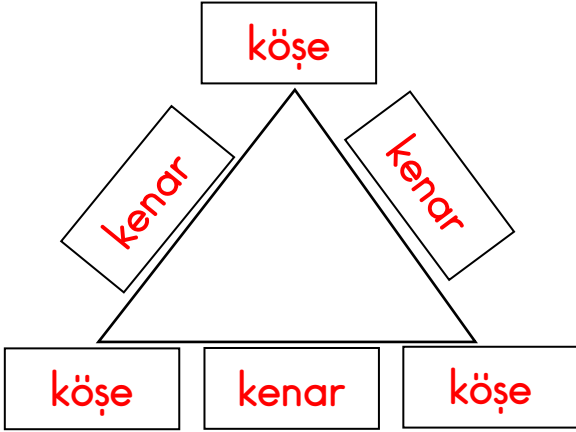
üçgen

çember

- a. İki uzun ve iki kısa kenarı olan, karşılıklı kenarları eşit şekillere denir.
- b. Dört kenarı eşit olan şekillere denir.
- c. Üç kenarı olan şekillere denir.
- d. Kenarı ve köşesi olmayan yuvarlak şekillere denir.




Aşağıdaki geometrik şekillerin isimlerini, köşelerini, kenarlarını ve kaç köşesi olduğunu örnekteki gibi yazınız.




- Şeklin adı:
- Kenar sayısı:
- Köşe sayısı:

- Şeklin adı:
- Kenar sayısı:
- Köşe sayısı:



- Şeklin adı:
- Kenar sayısı:
- Köşe sayısı:



- Şeklin adı:
- Kenar sayısı:
- Köşe sayısı: